

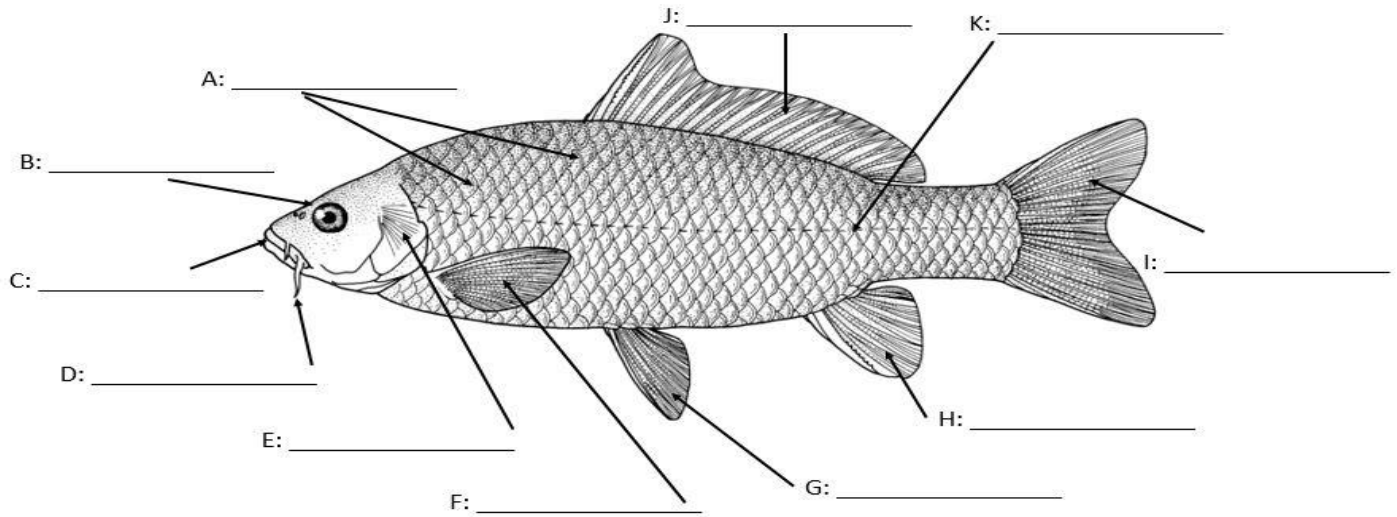
GERINCESEK ÖSSZEFOGLALÁSA

I. HALAK FŐOSZTÁLYA:

1. Testalakjuk: _____

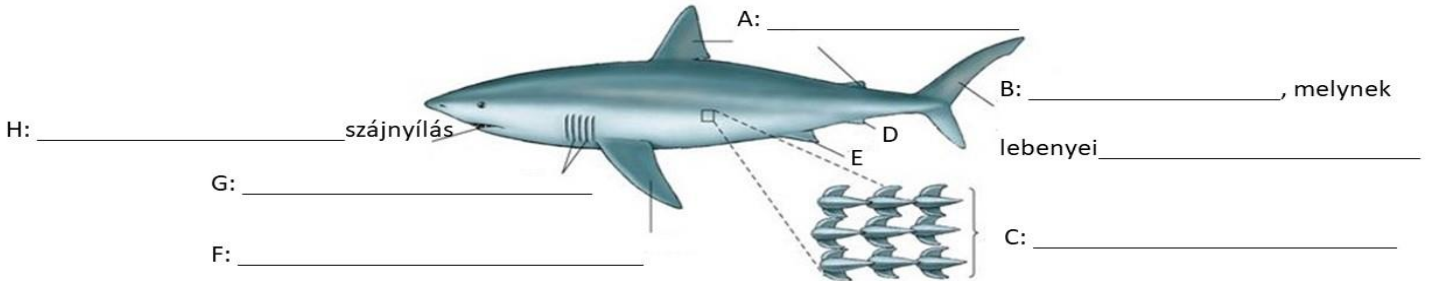
2. Testüket borítják: _____

4. Speciális szervük: _____, ennek szerepe: _____

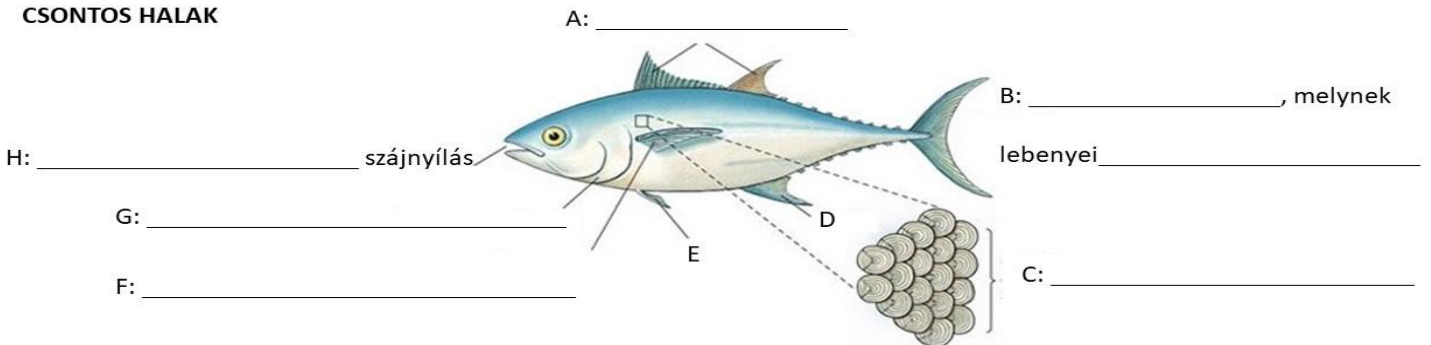


A CSONTOSHALAK ÉS PORCOSHALAK ÖSSZEHASONLÍTÁSA

PORCOS HALAK



CSONTOS HALAK



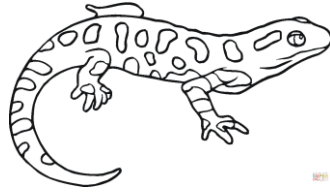

II. NÉGYLÁBÚAK FŐOSZTÁLYA

1. KÉTÉLTŰEK OSZTÁLYA:

Bőrük: _____

Légzésük: _____ Testhőmérsékletük: _____

Kloákájuk van: ez egy testnyílás, melyen keresztül a tápcsatorna, az ivarvezetékek és a húgyutak a külvilággal közlekednek

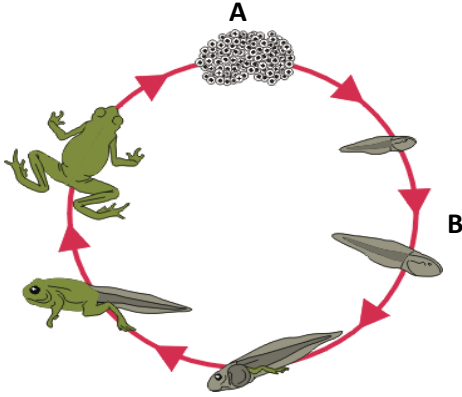


Rendszerezésük:

Farkatlan kétéltűek: _____

Farkos kétéltűek:

Szaporodásuk:



Mit jelentenek a A és B betűk?

A = _____ **B =** _____





Az ebihalak légzése: _____

testalak: _____ **végtagok:** _____

Az ebihalak erősen kötődnek a vízhez a _____

és a _____ **miatt.**

2. HÜLLŐK OSZTÁLYA

				
Csoport neve				
Testüket védi				
Fogak				
Légzés				
Kloáka				
Tojás				

Írd a helyes válasz betűjét a mondatok elé:

A) kétéltűek B) hüllők C) mindkettő

.....A telet elrejtőzve, dermedt állapotban töltik.

.....Egyes fajok fülkagylóval rendelkeznek.

.....Vágtagjaik általában rövidek és oldaltállók.

.....Metamorfózissal fejlődnek.

.....Fülkagylójuk nincs.

....Testüket pikkelyes bőr vagy csontlemezek borítják.

D) egyik sem

.....Szemüket pislogóhártya védi.

.....Bőrükben nyálkamirigyek vannak.

.....Kizárólag tüdővel lélegeznek.

.....Érzékszerveik hiányoznak.

..... Testhőmérsékletük változó.