

Examenul de bacalaureat 2012
Proba E.d)
Proba scrisă la GEOGRAFIE

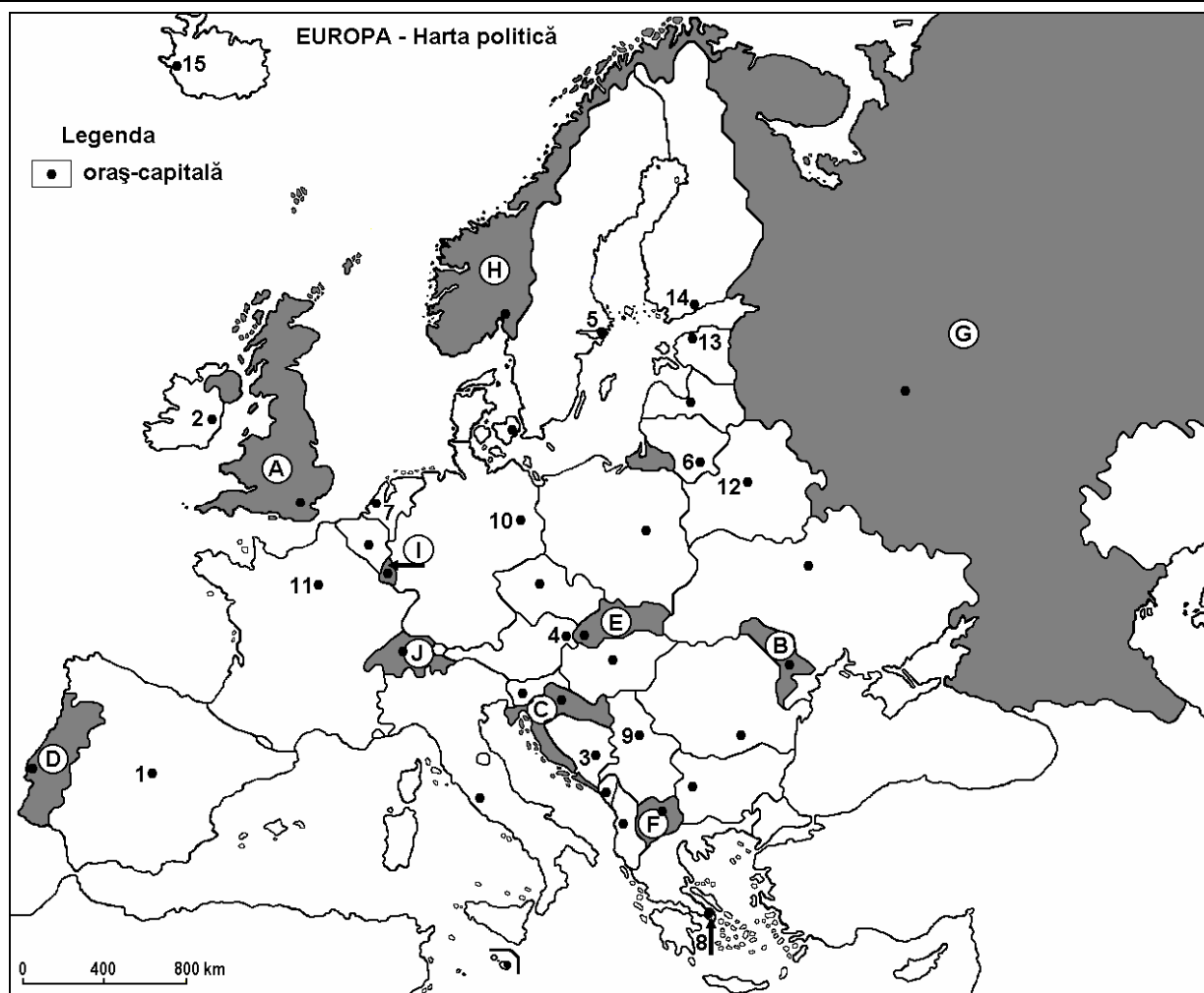
Varianta 3

Filiera teoretică, profilul umanist, specializările: filologie, științe sociale; filiera tehnologică, profilul servicii, toate specializările; Filiera vocațională: profil artistic, specializările: muzică, coregrafie, arta actorului, arhitectură, arte ambientale și design, arte plastice, arte decorative; profil sportiv, toate specializările; profil pedagogic, specializările: învățător/educatoare, bibliotecar-documentarist, instructor-animator, instructor pentru activitățile extrașcolare, pedagog școlar; profil ordine și securitate publică (Licee ale Ministerului Administrației și Internelor) specializarea științe sociale; profil teologic, toate specializările.

- Toate subiectele sunt obligatorii. Se acordă 10 puncte din oficiu.
- Timpul efectiv de lucru este de 3 ore.

I. Tétel

(30 pont)



A fenti térkép az I. Tétel A-D pontjaira vonatkozik. A térképen az országokat betűk, a fővárosokat számok jelölik.

A. Nevezzétek meg:

1. a térképen H betűvel jelölt országot;
2. a térképen 1 számmal jelölt fővárost.

4 pont

B. Írjátok a vizsgalapra az alábbi mondatokat kiegészítő helyes válaszokat:

1. Szarajevót a térképen a ... szám jelöli.
2. A D betűvel jelölt ország neve ...

3. A Szajna folyó áthalad a térképen a ... számmal jelölt városon.

6 pont

C. Írjátok a vizsgalapra a helyes válaszok betűjelét:

1. A térképen F betűvel jelölt ország fővárosa:

- a. Ljubljana b. Skopje c. Tirana d. Zágráb 2 pont

2. A kaledóniai hegységképződési fázis során keletkezett a következő betűvel jelölt ország területén húzódó hegység:

- a. B b. E c. F d. H 2 pont

3. A térképen I betűvel jelölt ország neve:

- a. Liechtenstein b. Luxemburg c. Monaco d. San Marino 2 pont

4. A térképen 6 számmal jelölt város neve:

- a. Helsinki b. Riga c. Tallinn d. Vilnius 2 pont

5. A térképen 12 számmal jelölt város a következő ország fővárosa:

- a. Fehéroroszország b. Észtország c. Lengyelország d. Ukrajna 2 pont

D. Írjatok három különbséget a térképen A és B betűkkel jelölt országok éghajlata között.

1. **Megjegyzés:** A különbségek a következő éghajlati elemek bármelyikére vonatkozhatnak: éghajlati tényezők, éghajlati típus, évi/nyári/téli középhőmérsékletek, hőmérsékleti amplitúdó, évi/nyári/téli átlagos csapadék, gyakori szelek.

2. **Megjegyzés:** A teljes pontszám csak abban az esetben adható meg, ha a különbségek összehasonlításukppen és nem külön-külön vannak leírva.

6 pont

E. 1. Írjatok egy természeti tényezőt, amely kedvezően befolyásolja a szőlőtermesztést az Appennini- és az Ibéri-félszigeteken.

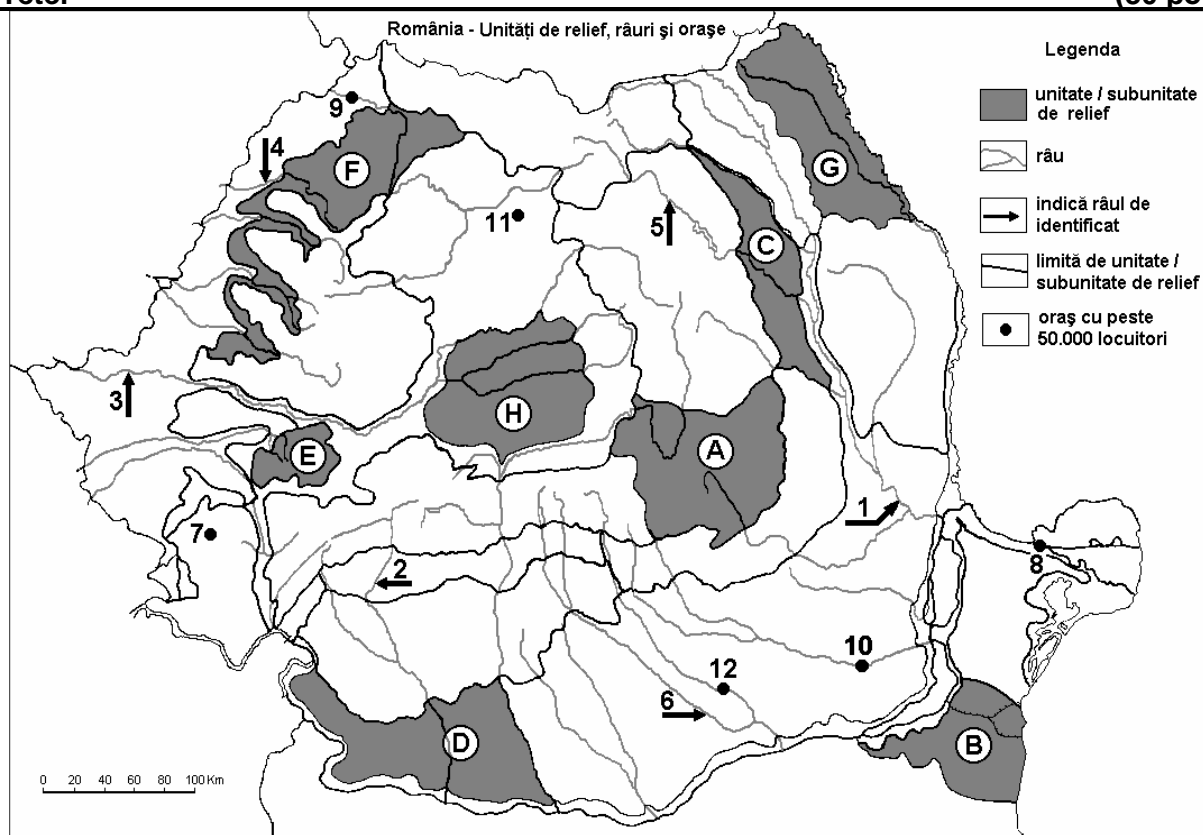
2 pont

2. Írjatok egy okot, amiért a népsűrűség magas a Rajna folyó mentén.

2 pont

II. Tétel

(30 pont)



A fenti térkép a II. Tétel A-D pontjaira vonatkozik. A térképen a tájegységeket betűk, a folyókat 1-6, a városokat pedig 7-12 számok jelölik.

A. Nevezzétek meg:

1. a térképen **9** számmal jelölt várost;
2. a térképen **3** számmal jelölt folyót.

4 pont

B. Írjátok a vizsgalapra az alábbi mondatokat kiegészítő helyes válaszokat:

1. A térképen **10** számmal jelölt város neve ...
2. A térképen **5** számmal jelölt folyó neve ...
3. Az ország legnagyobb népességű városát, a térképen a ... szám jelöli.

6 pont

C. Írjátok a vizsgalapra a helyes válaszok betűjelét:

1. Nagybánya (Baia Mare) a következő betűvel jelölt tájegység területén található:

a. A b. E c. F d. G

2 pont

2. Metángázt termelnek ki a következő betűvel jelölt tájegység alattajából:

a. B b. E c. G d. H

2 pont

3. A térképen a **2** számmal jelölt folyó áthalad a következő városokon:

a. Râmnicu Vâlcea és Târgu Jiu b. Râmnicu Vâlcea és Craiova
c. Târgu Jiu és Craiova d. Târgu Jiu és Slatina

2 pont

4. Sztyepp növényzet jellemző a következő betűvel jelölt tájegységre:

a. A b. B c. C d. E

2 pont

5. A legalacsonyabban fekvő várost a térképen a következő szám jelöli:

a. 7 b. 8 c. 11 d. 12

2 pont

D. Írjátok három különbséget a térképen A és C betűkkel jelölt tájegységek domborzata között.

1. Megjegyzés: A különbségek a domborzat következő jellemzőire vonatkozhatnak: kialakulási mód, közettani felépítés, magasságok, tagoltság, domborzati típusok, a hegységek és a fontosabb völgyek iránya, a medencék elhelyezkedése, más domborzati jellemzők.

2. Megjegyzés: A teljes pontszám csak abban az esetben adható meg, ha a különbségek összehasonlítóképpen és nem külön-külön vannak leírva.

6 pont

E. Írjátok:

1. egy tényezőt, amely meghatározta egy kohászati kombinát építését Galacon.

2 pont

2. egy okot, amiért az évi átlagos csapadékmennyiség magasabb az ország nyugati részén, az ország keleti részéhez viszonyítva.

2 pont

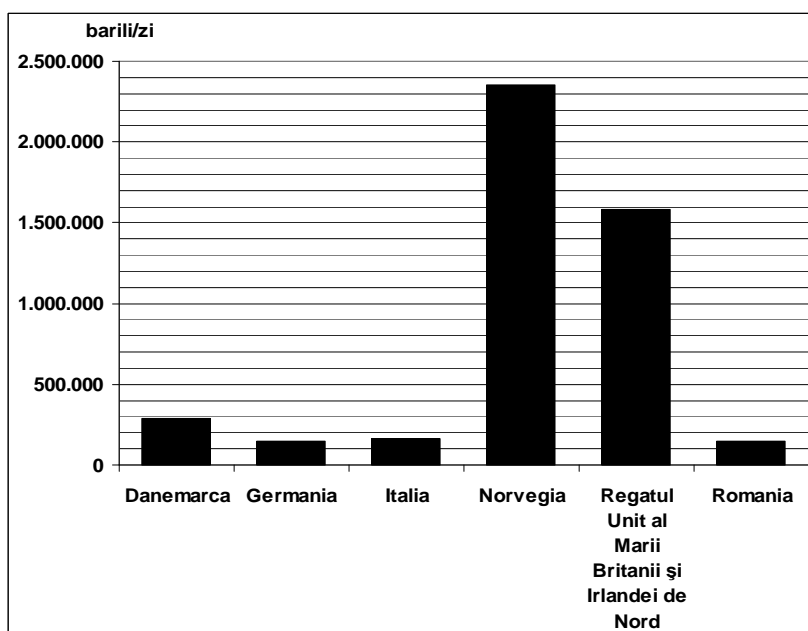
III. Tétel

(30 pont)

A mellékelt grafikon a **III. Tétel A-B** pontjaira vonatkozik és néhány európai ország kőolaj kitermelését ábrázolja (hordó/nap).

A. Írjátok le a kőolaj kitermelésben első két ország nevét, és mindkét országban a kitermelt mennyiségeket.

4 pont



B. 1. Írjátok le a térség nevét, ahonnan a grafikonon szereplő, kitermelésben első két ország nyeri a kőolajat.

2. Említsetek meg egy másik, a grafikonon feltüntetett országot, amely ugyanabból a térségből nyeri a kőolajat, mint a kitermelésben első két ország.

3. Írjátok két tájegységet (vagy altájegységet), ahol kőolajat termelnek ki Romániában.

4. Említsetek meg két olyan iparágat, amelyek kőolajat hasznosítanak Romániában.

6 pont

C. Jellemezzétek **Olaszországot** és írjátok le:

1. két szomszédos államának a nevét, amelyek az Európai Unió tagjai;

2. két hegyvidéki tájegységének a nevét;

3. egy síkvidéki tájegységének a nevét;

4. három városának a nevét;

5. két enklávénak a nevét.

10 pont

D. Adott az alábbi táblázat:

Ssz.	Ország	Terület (km ²)	Lakosság (fő)
1	Belgium	30.528	10.379.000
2	Írország	70.280	4.062.000

Forrás: The World Factbook, 2006-ra vonatkozó becslések

Megjegyzés: A lakosságra vonatkozó adatok kerekítettek

1. Számítsátok ki Belgium átlagos népsűrűségét.

2. Számítsátok ki Írország átlagos népsűrűségét.

3. Írjátok egy okot, amiért Belgium és Írország átlagos népsűrűsége különböző értékű.

6 pont

E. 1. Írjátok egy okot, amiért a Duna vízhozama magas március-június hónapok között.

2. Említsetek meg két államot, amelyek 2004-ben léptek be az Európai Unióba.

4 pont